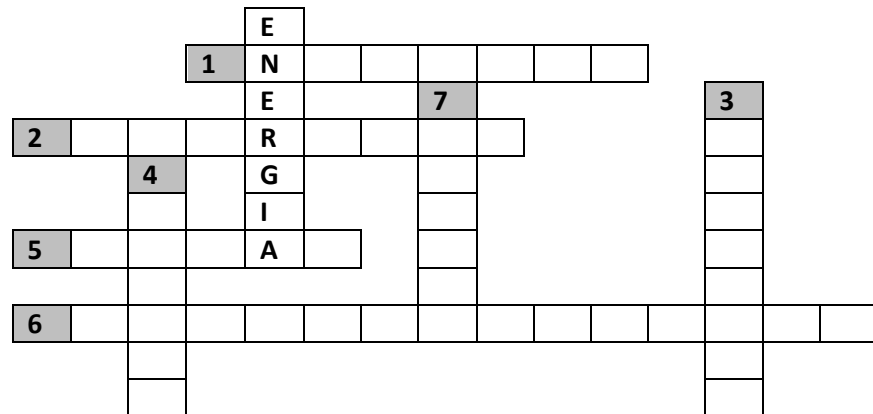


**Clase 14****Ejercitación de Geografía****11/07/15**

*Hoy realizaremos un repaso aplicando temas que hemos estado estudiados en los Núcleos Temáticos 3 y 4. Para resolverlo puedes ayudarte con tu libro.*

**46.- Completa el siguiente cruzadex****Referencias**

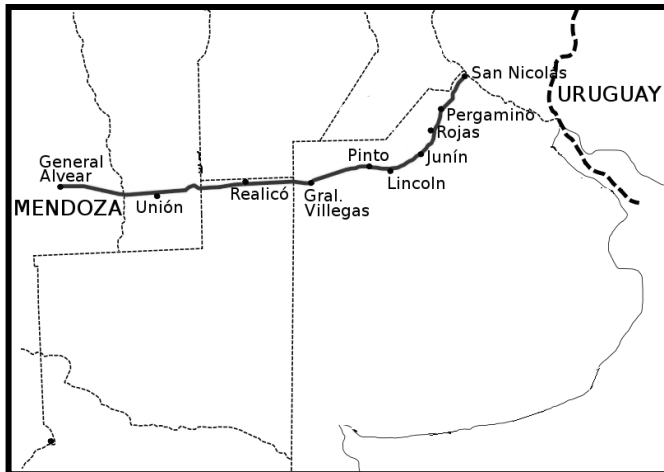
- 1- Energía producida a partir del Uranio.
- 2- Combustible fósil más utilizado.
- 3- Cuenca que presenta la mayor reserva petrolífera de argentina.
- 4- Energía alternativa desarrollada en la Patagonia.
- 5- Energía aprovechada en zonas áridas. Buena solución para las áreas rurales.
- 6- Energía aprovechada en los ríos Paraná, Uruguay.
- 7- Biocombustible obtenido a partir de la caña de azúcar.

**47.- Completa las oraciones seleccionando y copiando la opción correcta.**

- a-En el ambiente de la selva tucumana se cultiva .....  
(tabaco-trigo-olivo)
- b-La salina es una depresión cuyo fondo se encuentra cubierto por un manto de .....  
(cloruro de sodio- litio-boratos)
- c-El Parque Nacional Lanín resguarda y protege una porción del .....  
(espinal-bosque chaqueño- bosque frío)
- d-La mayor concentración urbana se encuentra en la zona.....  
(cuyana-patagónica- pampeana)
- e-La principal producción agrícola del Alto Valle de Río Negro es.....  
(caña de azúcar-peras y manzanas – limón)

**48- Lee el siguiente enunciado y realizá las actividades.**

La ruta 188 une las localidades de San Nicolás y General Alvear atravesando varias provincias argentinas.



a.- Trabajá con el mapa y completá el nombre de la provincia en la que se encuentra:

- ✓ San Nicolás.
- ✓ Realicó.
- ✓ Unión.



b.- Nombrar de oeste a este todas las provincias que atraviesa la ruta.

.....

.....

.....

c.- Observá las imágenes, el mapa y completá el cuadro

Imagen	Ambiente	Relieve	Recursos	Actividad Económica
 Campo en Realicó				
 Viñedos en Gral Alvear				



d.- Lee la siguiente oración y respondé:

En el centro oeste del país,  
los bosques fueron talados y  
expuso los suelos a la  
erosión eólica.

1. ¿A qué ambiente hace referencia la oración?

2. Nombrá dos causas que produjeron el  
desmonte.



3. Subrayá con violeta en el mapa una localidad  
de la ruta donde se desarrolla este ambiente.

4. Subrayá en el texto con naranja el problema  
ambiental presentado.

e.- Lee las características y relacioná cada una con el número que corresponde al ambiente.

N°	Características
1	Oasis Cuyanos
2	Pastizal pampeano
3	Espinal
	Desierto de piedras y arena
	Formación herbácea
	Producción de olivo
	Pastizal pampeano
	Clima templado húmedo
	Grandes áreas metropolitanas

f.- Observá el mapa de la página 57 de la guía y el mapa de la página anterior y marcá con "X" la respuesta correcta para cada enunciado.

**Tipo de cuenca hidrográfica que atraviesa la ruta entre San Nicolás y Lincoln.**

(.....) Endorreica

(.....) Arreica

(.....) Exorreica

**Uso de los ríos en Mendoza**

(.....) Pesca de merluza

(.....) Riego

(.....) Navegación



49.- Leé el texto, tené en cuenta las características estudiadas para el ambiente y resolvé las actividades propuestas.

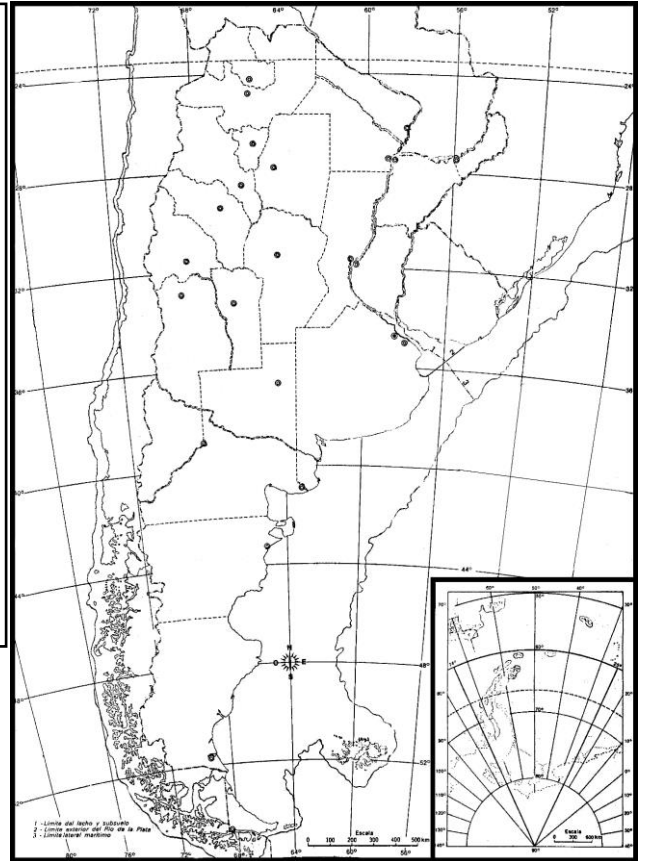
### Parque Nacional El Rey

El Parque Nacional El Rey se ubica a 200 km al este de la ciudad de Salta capital y fue creado en 1948. Su superficie es de 44.162 hectáreas ubicadas en el ambiente de Yungas.

Desde las ciudades de Salta y San Miguel de Tucumán se puede acceder al parque a través de la ruta nacional N° 9 y otras rutas provinciales.

El objetivo del parque es preservar el ambiente de la zona y conservar yacimientos arqueológicos. En el área predomina el clima cálido húmedo con temperaturas medias de 20°C y precipitaciones durante el verano por el ingreso de los vientos del Atlántico que descargan su humedad en la ladera oriental de las Sierras Subandinas; hacia el oeste las precipitaciones disminuyen y se concentran en verano.

La vegetación se escalona con la altura siendo más variada en el primer piso o estrato donde crecen árboles de maderas duras como el cedro y el nogal.



a.- ¿Qué ambiente preserva el parque?

b.- Subrayá con azul en el texto el objetivo de la creación del Parque Nacional.

c.- ¿Qué variedad climática encontramos en ese ambiente?

d.- Explica por qué causa es un ambiente húmedo

e.- ¿Qué tipo de maderas se aprovechan? .....

f.-Transcribí el nombre de dos especies de este tipo de maderas.....

g.-¿ Cómo clasificarías esa actividad económica?

h.-¿Qué tipo de recurso se explota allí?

i.-Trabajá sobre el mapa:

- ✓ Coloreá con amarillo la provincia donde se localiza el parque.
- ✓ Colocá nombre a la provincia que se ubica al norte de la provincia pintada.
- ✓ Escribí el nombre de las provincias que se encuentran al este de la que se encuentra el Parque Nacional.

**50.-Ambientes cálidos**

Seleccioná las opciones correctas y completá el cuadro:

- Explotación de petróleo
- Cultivo de caña de azúcar, tabaco y cítricos.
- Pino paraná, lapacho y palo rosa.
- Posadas, Apóstoles y Oberá.
- Llanura chaqueña.
- Cultivo de yerba mate, té y tung.
- Cedro y nogal.
- Erosión y voladura de suelos
- Selva tucumano oranense
- Cultivo de soja y girasol.
- Meseta misionera.
- Bosque chaqueño.
- Formosa Resistencia y Corrientes
- Pesca de merluza y calamar

AMBIENTE	RELIEVE	RECURSO VALORADO	CIUDADES IMPORTANTES	ACTIVIDADES ECONÓMICAS
	Sierras Subandinas		San Miguel de Tucumán y San Ramón de la Nueva Orán	
Selva misionera				Fábricas de pasta de celulosa y papel.
		Quebracho colorado		Ganadería bovina

**Para el examen del sábado 18 de julio, al estudiar recordá tener en cuenta:**

- Contenidos de la guía.
- Guías de cada clase.
- Explicaciones de tu profesor.

**Traer lápices de color: naranja, amarillo azul y violeta.**

**LEÉ MUY BIEN TODAS LAS CONSIGNAS Y RESOLVÉ LO PEDIDO**

***Felicitaciones por el trayecto recorrido hasta aquí. ¡Felices vacaciones!***

***¡Éxitos!***

**Equipo de Geografía**

